

Parcours de visite : Musée du général Leclerc

1. L'Empire colonial français, un enjeu majeur au début de la guerre.

Observez la vitrine consacrée au capitaine de Hauteclocque, (septembre 1939-juliet1940).

Repérez sur la carte les étapes de l'avancée des troupes allemandes sur le territoire français. Quelle est la situation militaire de la France ?

Recherchez dans le premier écran projetant des images d'archives quel personnage signe l'armistice (la cessation des combats) avec l'Allemagne nazie.

Affiche de la France combattante, août 1940.

Qui signe ce message aux Français et à quoi appelle-t-il ? Où a-t-il décidé de poursuivre la lutte ? A quoi s'oppose-t-il ?

Quel symbole accompagne le texte ?

Qu'est-ce que l'on appelle l'Empire français en 1940 ?

Dakar, capitale de l'Afrique occidentale française, qui reste en 1940 dans le camp de l'Etat français du maréchal Pétain.

Douala, capitale du protectorat français du Cameroun, qui se rallie très tôt à la France Libre après le débarquement du capitaine Leclerc en août 1940.

Brazzaville, capitale de la France libre entre 1940 et 1942.

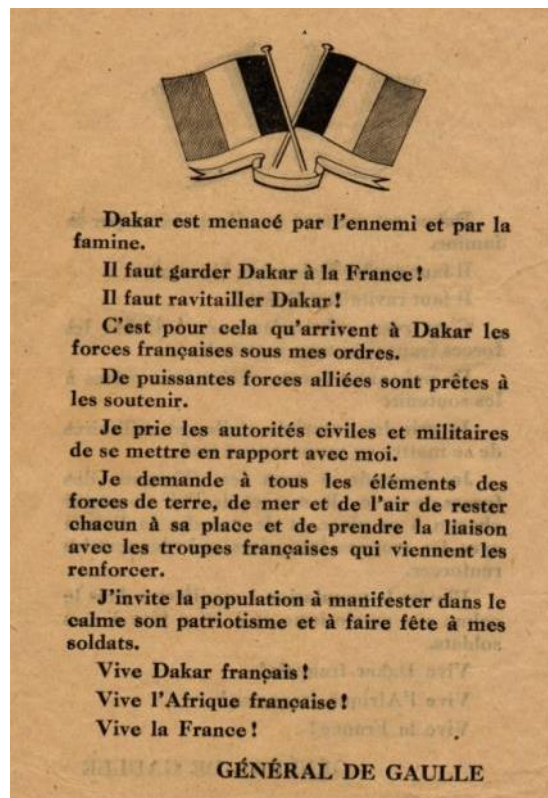


Carte de l'Empire colonial français en Afrique, 1940.

Tract de la France libre largué sur la ville de Dakar.

Ce tract a été largué sur Dakar le 23 septembre 1940 pour tenter de rallier les hommes et le territoire à la France libre. Le même jour a lieu un affrontement naval entre les forces françaises libres du général de Gaulle alliées aux forces britanniques, et les forces de l'État français du maréchal Pétain. Dakar est la capitale de l'Afrique Occidentale Française (AOF), qui regroupe huit colonies françaises. Alors que l'Afrique équatoriale française (AEF) s'est rangée du côté de la France libre du général de Gaulle, l'AOF reste fidèle au maréchal Pétain et au régime de Vichy. La bataille est remportée par les troupes de Vichy. C'est le premier combat fratricide entre Français et un échec important pour le général de Gaulle.

Qui signe ce texte ? Quel symbole l'accompagne ?



Pour quelle raison est-il si important de « garder Dakar à la France » ? Lorsque le texte évoque la « France », de quelle France est-il ici question ?


Observez les photographies exposées et notez les noms donnés aux combattants originaires du continent africain.

Repérez la photographie ci-contre dans l'exposition et précisez à quel groupe de combattants appartenait Dominique Kosseyo. La photographie a été prise à Brazzaville. Brazzaville est alors la véritable capitale de la France libre.

Quelle décoration le général de Gaulle lui a-t-il remise ?

Observez la croix à double traverse (double barre horizontale), qui figure sur la décoration de l'Ordre de la libération, créé par le général de Gaulle.

Il s'agit de la **croix de Lorraine**, symbole adopté par la France libre en juillet 1940. A quelle croix, adoptée par les Nazis, cette croix de Lorraine s'oppose-t-elle ?



Une photographie représente le général de Gaulle et le capitaine Leclerc passant des troupes en revue à Douala, au Cameroun.

Photographie d'une réunion des Forces françaises libres au Royal Albert Hall.
 Repérez la date à laquelle a eu lieu cette réunion et expliquez à quoi elle correspond.

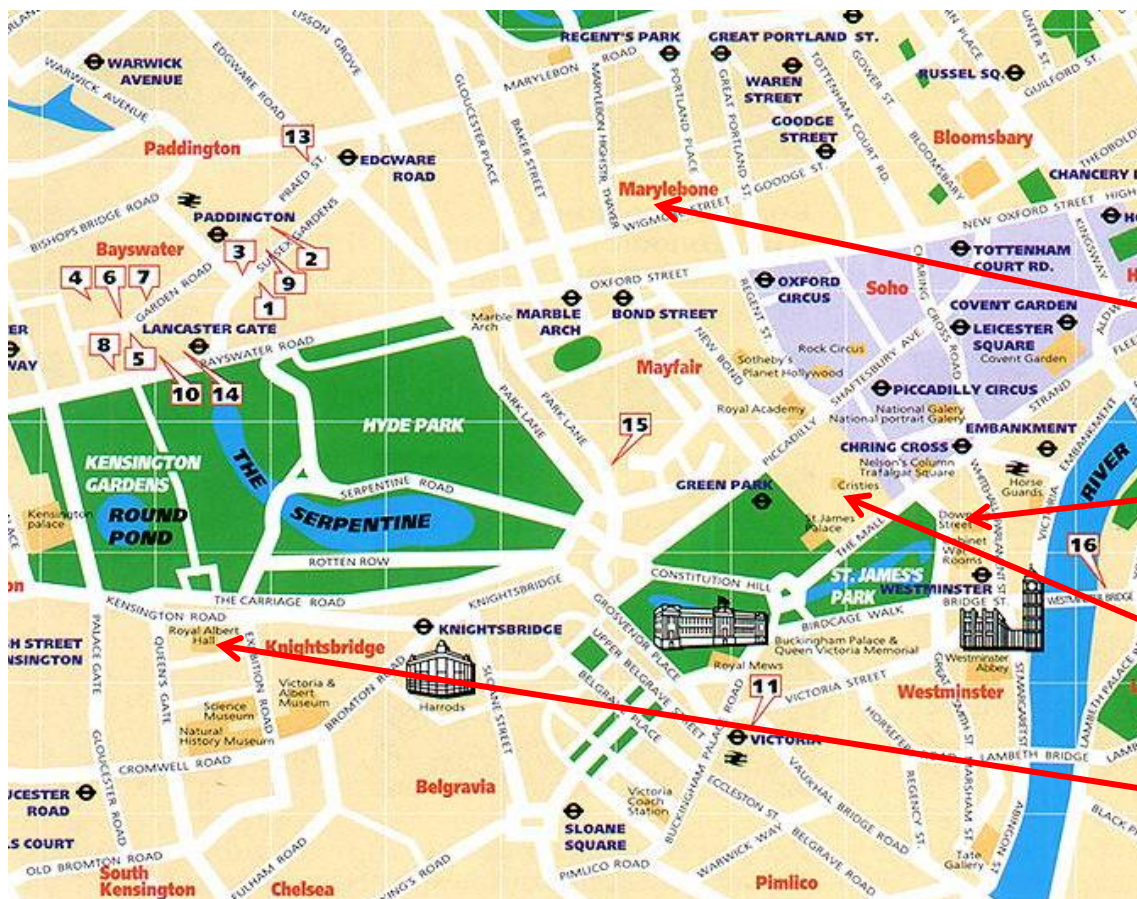
Quelles photographies montrent que Londres était également un lieu de rassemblement et d'entraînement des troupes de la France libre ?

Le document ci-contre nous rappelle que dès le début de la guerre les alliés ont livré aux Allemands et à leurs alliés une véritable « guerre des ondes » : il s'agissait de contrer la propagande nazie en informant les populations, notamment en France.

Plaque commémorative de "Radio Londres", cimetière d'Asnelles, Calvados, France



Utilisez les photographies exposées pour légender le plan des lieux de la France libre à Londres. Expliquez quelle était la fonction de chaque lieu dans la résistance à l'Allemagne nazie. Il existe par ailleurs d'autres lieux associés à la France libre, comme Hill street, siège des Femmes de la France libre, Dorset square où Jean Moulin a rencontré les chefs alliés...



Broadcasting House, siège de la BBC

10 Downing Street

4 Carlton Gardens

Royal Albert Hall

3. La colonne Leclerc dans la bataille du désert, 1940-1942.

Observez les deux vitrines consacrées à l'expédition sur Koufra et à celle du Fezzan.

Utilisez les cartes pour préciser quel est le point de départ de la colonne Leclerc. Dans quels pays actuels se trouvent Koufra et le Fezzan ?

A quel pays allié de l'Allemagne nazie cette région est-elle disputée ?

En progressant vers le Nord du continent africain, la colonne Leclerc traverse la région du Sahel, semi-désertique, puis arrive dans le Sahara, désert le plus étendu du monde. Cette région, marquée par des contraintes naturelles très fortes, est réputée impossible à traverser pour une unité motorisée.

Observez les photographies : décrivez les paysages dans lesquels les combats se déroulent.

Quel animal apparaît sur une photographie, au sein de la colonne Leclerc ?

Pour patrouiller sur la frontière avec la Libye, les autorités ont créé les Groupes Nomades (GN) de Borkou, du Tibesti et de l'Ennedi. Ces méharistes (unités de l'armée française, qui utilisent des dromadaires) sont rompus à la navigation dans le désert.

Outre les méharistes, vous remarquerez sur les photographies que les troupes du capitaine Leclerc sont constituées de tirailleurs « sénégalais » (tchadiens pour la plupart) et d'Européens (une centaine). Le terme de « tirailleur sénégalais » désigne un corps militaire de l'armée française, constitué d'hommes originaires des colonies d'Afrique.

Les membres des Forces françaises libres sont originaires de nombreuses régions du vaste empire français de l'époque).



Le capitaine Leclerc et ses hommes à Koufra.

Observez le matériel et équipement présenté dans les différentes vitrines et faites correspondre aux contraintes naturelles indiquées ci-dessous un équipement :

Contraintes naturelles	Equipement qui lui correspond
L'aridité (faible pluviosité et faiblesse des ressources en eau.)	
L'immensité désertique	
L'intensité du rayonnement solaire	
L'ensablement	

La prise de l'oasis de Koufra est la première véritable victoire de la France représentée par le général de Gaulle depuis le début de la guerre. Mais les troupes bénéficient de véhicules et d'un équipement britanniques. Le lendemain de la prise de Koufra, le capitaine Leclerc réunit ses troupes dans la cour du fort et prononce un discours resté célèbre qui se termine par ces mots : « *Nous sommes en marche, nous ne nous arrêterons que lorsque le drapeau français flottera sur la cathédrale de Strasbourg* ». Les soldats et officiers reprennent le serment à la suite de leur chef. Ces quelques mots sont restés dans l'histoire comme le **serment de Koufra**.

4. De la colonne Leclerc à la 2e DB, de l'Afrique du Nord à l'Angleterre.

Observez la vitrine consacrée à la formation de la 2e DB.

Une division blindée est une unité terrestre de l'armée, composée de véhicules blindés (protégés des tirs ennemis par un blindage), principalement des chars. Quels ont été les différents noms de la colonne Leclerc avant d'être officiellement baptisée 2^e division blindée ?

A quelle date le général de Gaulle crée-t-il officiellement la 2^e DB ?

Vous trouverez dans le musée cet insigne de la 2e DB.

De quoi se compose-t-il ?

Pour quelle raison peut-on dire qu'il reprend le serment de Koufra ?

Photographie du général Leclerc sur un char Sherman, le 11 novembre 1943.

Le char M4, surnommé Sherman, de fabrication américaine, est le char produit en plus grande quantité pendant la Seconde Guerre mondiale, à partir de 1942. Il a équipé les troupes du général Leclerc aussi bien que l'armée britannique et l'armée soviétique. Ce char a joué un rôle très important lors des débarquements en Italie et en Normandie puis lors de toute la campagne d'Europe. Il est équipé d'un canon de 75 mm, ainsi que de plusieurs mitrailleuses.

Quels éléments de l'image renvoient à l'insigne de la 2^e DB ?

Vous avez peut être remarqué que nous disons maintenant général Leclerc et non plus capitaine. Il s'est autoproclamé colonel en août 1940, puis le général de Gaulle l'a nommé général de brigade en 1941, et général de division en mai 1943.

Photographie de l'embarquement des chars de la 2e DB à destination de l'Angleterre.

D'après vous, quel est le but de cet embarquement à destination de l'Angleterre ? Quel avait été jusqu'ici le territoire de combat des hommes du général Leclerc.



5. Du débarquement en Normandie à la libération de Paris.

Observez les ressources qui évoquent le débarquement allié en Normandie, le 6 juin 1944.

A quelle date les chars de la 2^e DB et le général Leclerc débarquent-ils ?



Observez la vitrine consacrée au débarquement du général Leclerc en Normandie : quels objets indiquent que ce débarquement s'est fait avec l'aide et le matériel américains ?

Le document ci-contre est un tract distribué à la population parisienne dans les jours qui précèdent l'entrée de la colonne Leclerc.

De qui est-il signé ? Quel symbole, utilisé dans les 1^{er} tracts du général de Gaulle, retrouvez-vous ? Pour quelle raison peut-on parler de fête populaire ?

Observez la carte murale de l'entrée de la 2^e DB dans Paris.

Par où les chars arrivent-ils ?

Quelle porte parisienne empruntent-ils ?



Photographie de Robert Blancherie, propriété du musée.

Par quelle gare parisienne les troupes françaises passent-elles ?

Quelle grande avenue parisienne la 2^e DB remonte-elle ensuite ?

Le général Leclerc installe son poste de commandement à la gare Montparnasse. Le général de Gaulle le rejoint en fin d'après-midi ce jour du 25 août. Ils se rendent à l'Hôtel de ville où le général prononce son célèbre discours rendant hommage à « Paris outragé, Paris brisé, Paris martyrisé mais Paris libéré ». Pour les Parisiens les chars de la 2^e DB deviennent immédiatement le symbole de la libération de leur ville.

Observez la photographie qui réunit le général de Gaulle, le général Leclerc, J. Chaban-Delmas et Rol Tanguy. Vous retrouvez trois d'entre eux sur la photographie ci-dessous.



Vous connaissez déjà le général de Gaulle et le général Leclerc. **Rol-Tanguy** représente la résistance de l'intérieur. Celle qui a lutté contre l'occupation allemande depuis la France. Il appartient au réseau de résistance des Francs - Tireurs Partisans (FTP). Il a joué un rôle militaire et opérationnel puisqu'il dirige l'insurrection parisienne entre les 19 et 25 août pour favoriser l'entrée des chars du général Leclerc dans Paris.

Observez la Une du journal annonçant la libération de l'Alsace.

De quand date-t-elle ? Quels sont les deux personnages mis en avant par cette Une ?

Quel dessin symbolise la libération de la ville ?
Mettez ce document en relation avec le document ci-contre.

Quel fleuve est ensuite franchi par les chars Sherman des troupes alliées ?

Dans quelle ville allemande le parcours des troupes du général Leclerc s'achève-t-il au printemps 1945 ?

Rappelez où est-ce qu'il avait commencé au début de l'année 1941.

